

### Vzdělávací materiál projektu Zlepšení podmínek výuky v ZŠ Sloup

Název vzdělávacího materiálu	<b>Násobilka 2</b>
Anotace	Pracovní listy k procvičování násobilky. Žák může přepisovat vhodná cvičení do sešitu a řešit je. Všechny pracovní listy můžeme také vytisknout a žákům předložit k doplnění.
Autor	Mgr. Alena Míšenská
Jazyk	Matematika
Očekávaný výstup	Žák si procvičí spoje násobilky a řešení jednoduchých slovních úloh z praxe.
Třída	2.–3.

# NÁSOBILKA 2

## 1. Vyznač červeně násobky 2

1 2 3 4 5 6 7 8 9 10 11 12 13 14 15 16 17 18 19 20

## 2. Zapiš jako příklady na násobení

$2 + 2 + 2 + 2 =$



$.. =$

$2 + 2 + 2 + 2 + 2 + 2 =$



$.. =$

## 3. Doplně správné číslo

$.. 2 = 6$

$.. 2 = 10$

$.. 2 = 2$

$.. 2 = 14$

$.. 2 = 18$

$.. : 2 = 4$

$.. : 2 = 6$

$.. : 2 = 2$

$.. : 2 = 8$

$.. : 2 = 10$




## 4. Rozděľ do bublin po 2



## 5. Uvažuj, vypočítej příklady a napiš odpovědi

A) Kočka má dvě oči. Kolik očí má pět koček?



.....  
.....  
.....

B) V šatně bylo 14 botiček. Pro kolik dětí jsou?

.....  
.....  
.....




C) Teta Eva plete na zimu rukavice pro 6 dětí. Už jich upletla 10.

a) Kolik jich musí uplést celkem? .....

b) Kolik jí zbývá uplést?

.....  
c) Pro kolik dětí zatím nemá?

.....



# NÁSOBILKA 2

## ŘEŠENÍ

### 1. Vyznač červeně násobky 2

1 2 3 4 5 6 7 8 9 10 11 12 13 14 15 16 17 18 19 20

### 2. Zapiš jako příklady na násobení

$$2 + 2 + 2 + 2 = 8$$



$$4 \cdot 2 = 8$$

$$2 + 2 + 2 + 2 + 2 + 2 = 12$$



$$6 \cdot 2 = 12$$

### 3. Doplň správné číslo

$$3 \cdot 2 = 6$$

$$8 : 2 = 4$$

$$5 \cdot 2 = 10$$

$$12 : 2 = 6$$

$$1 \cdot 2 = 2$$

$$4 : 2 = 2$$

$$7 \cdot 2 = 14$$

$$16 : 2 = 8$$

$$9 \cdot 2 = 18$$

$$20 : 2 = 10$$




### 4. Rozděľ do bublin po 2



### 5. Uvažuj, vypočítej příklady a napiš odpovědi

A) Kočka má dvě oči. Kolik očí má pět koček?



$$2 \cdot 5 = 10$$

Pět koček má 10 očí.

.....

B) V šatně bylo 14 botiček. Pro kolik dětí jsou?

.....

$$14 : 2 = 7$$

.....

Botičky jsou pro 7 dětí.

.....





C) Teta Eva plete na zimu rukavice pro 6 dětí. Už jich upletla 10.

a) Kolik jich musí uplést celkem? .....  $6 \cdot 2 = 12$  ..... Celkem musí uplést 12 rukavic.

b) Kolik jí zbývá uplést? .....  $12 - 10 = 2$  ..... Zbývá jí uplést 2 rukavice. ....

c) Pro kolik dětí zatím nemá? .....  $2 : 2 = 1$  ..... Zatím nemá pro 1 dítě. ....



Zdroje:

Neznámý autor. [cit. 2007-11-13]. Dostupný pod licencí Public Domain na WWW:  
< <http://www.clker.com/clipart-4261.html> >

Neznámý autor. [cit. 2007-11-13]. Dostupný pod licencí Public Domain na WWW:  
< <http://www.clker.com/clipart-3447.html> >

Neznámý autor. [cit. 2007-11-13]. Dostupný pod licencí Public Domain na WWW:  
<<http://www.clker.com/clipart-27005.html> >

Neznámý autor. [cit. 2007-11-13]. Dostupný pod licencí Public Domain na WWW  
< <http://www.clker.com/clipart-4229.html> >