

Kód: \_\_\_\_\_

### Vzdělávací materiál projektu Zlepšení podmínek výuky v ZŠ Sloup

Název vzdělávacího materiálu	Desetinná čísla
Anotace	Pracovní listy k procvičování porovnávání a zapisování desetinných čísel. Žák řeší uvedená cvičení do sešitu. Pracovní listy můžeme také vytisknout a žákům předložit k doplnění.
Autor	Mgr. Pavel Nečas
Jazyk	Český jazyk
Očekávaný výstup	Žák se naučí zapisovat a porovnávat desetinná čísla.
Třída	5.

## Desetinná čísla

1. Porovnej desetinná čísla.

2,8 ..... 11,35      18,5 ..... 18,05      0,045 ..... 0,046  
12,9 ..... 3,16      69,2 ..... 69,20      50 ..... 50,03  
4,4 ..... 4,04      81,64 ..... 81,7      0,6 ..... 0,600

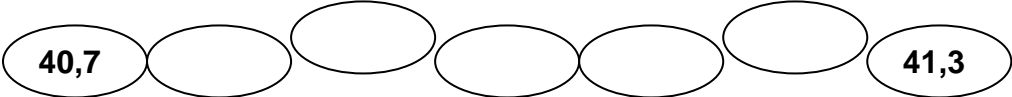
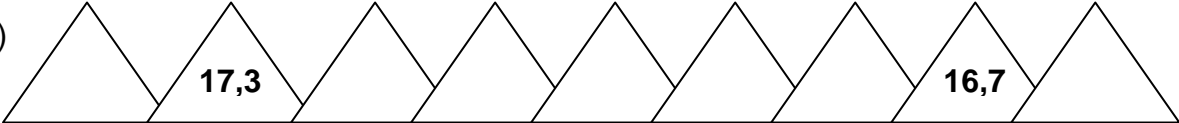

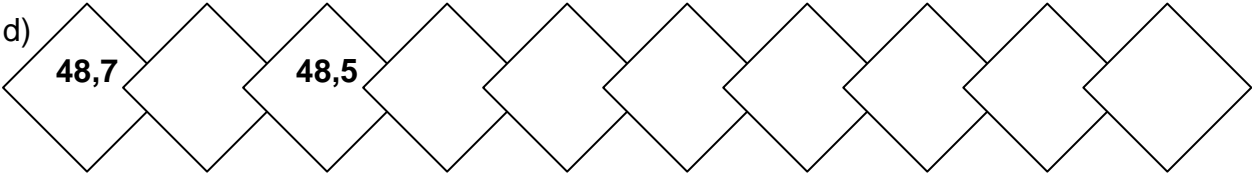
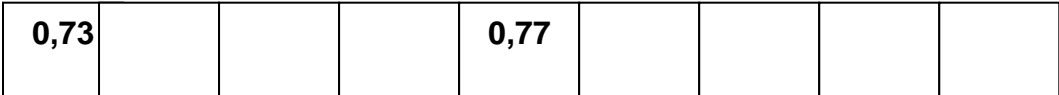
2. Zjisti výšku v metrech šesti svých spolužáků ve třídě. Seřad' žáky od nejmenšího k největšímu.

.....  
.....  
.....

3. Napiš, co je více.

- a) 4,6 m nebo 4,60 m - .....      e) 13,46 m nebo 13,46 m - .....  
b) 8,200 kg nebo 8,201 kg - .....      f) 0,40 Kč nebo 0,4 Kč - .....  
c) 12,90 Kč nebo 21,60 Kč - .....      g) 3,6 kg nebo 3,60 kg - .....  
d) 20,90 Kč nebo 21,60 Kč - .....      h) 48,7 kg nebo 48,703 kg - .....

4. Doplň chybějící čísla:

- a) 
- b) 
- c) 
- d) 
- e) 

5) Napiš v kilogramech hmotnost narozených dětí.

JMÉNO	gramy	kilogramy
Adam	2 900	
Eva	2 100	
Soňa	1 900	
Cyril	3 300	
Robert	4 100	
Šimon	2 150	
Karel	4 920	
Lucka	980	
Vašek	5 270	

5. Najdi alespoň dvě řešení nerovnice:

a)  $22,8 < x < 23,1$

b)  $11,382 < x < 11,391$

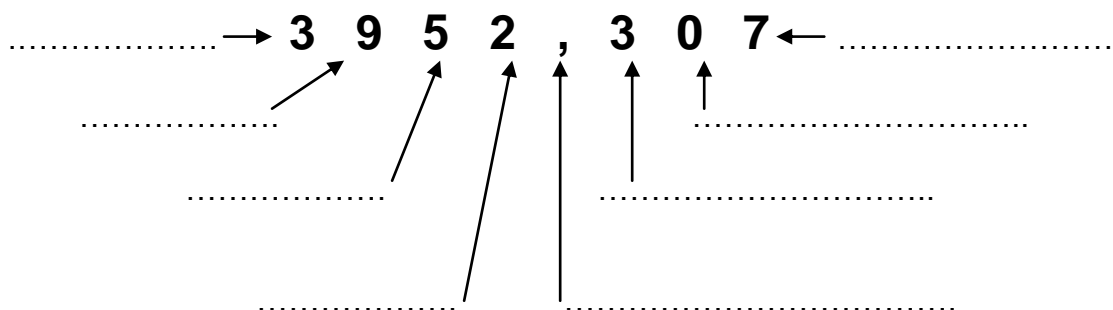
.....

.....

.....

.....

6. Napiš na řádky správný výraz z nabídky.



( desetiny, desetinná čárka, stovky, tisíce, desítky, setiny, jednotky, tisíce )

